

NGỮ VĂN 6 – TUẦN 14

Hoạt động: ÔN TẬP

Câu 1 SGK:

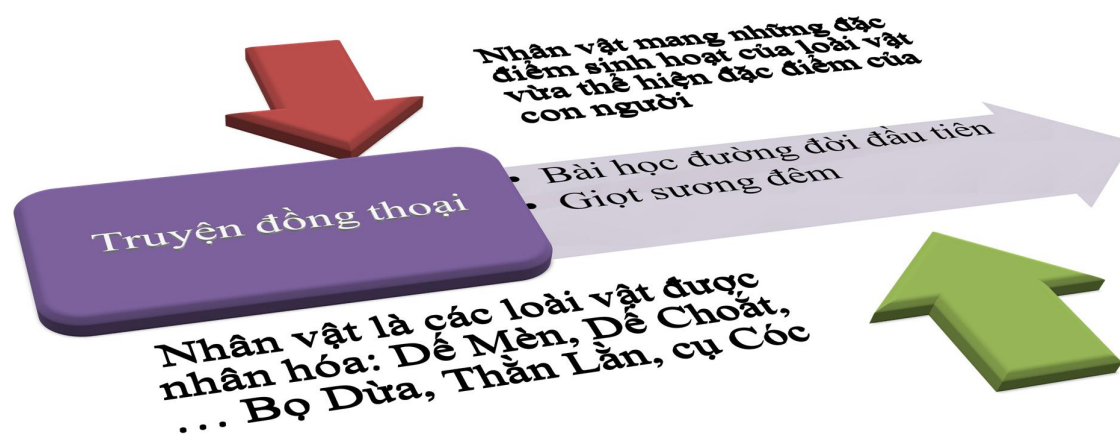
Bảng tóm tắt nội dung chính của ba văn bản

Văn bản	Nội dung chính
<i>Bài học đường đời đầu tiên</i>	VB miêu tả Đế Mèn có vẻ đẹp cường tráng nhưng tính cách kiêu căng, xốc nổi, đã gây ra cái chết của Đế Choắt. Đế Mèn hối hận và rút ra bài học cho mình.
<i>Giọt sương đêm</i>	Giọt sương đêm và những tiếng động quen thuộc của làng quê nơi xóm Bờ Dậu, đã đánh thức tình yêu quê hương của ông khách trọ Bọ Dừa khiến ông quyết định trở về thăm quê nhà
<i>Vừa nhắm mắt vừa mở cửa sổ</i>	Truyện kể về người cha hướng dẫn người con cách cảm nhận về cuộc sống rất độc đáo: qua tất cả các giác quan như sờ hình dạng, ngửi mùi hương, những món quà, ... qua đó ta thấy được một thái độ trân trọng yêu quý ,hòa, hợp giữa thiên nhiên và con người

Câu 2 SGK/ 109:

Cách cảm nhận cuộc sống của ba nhân vật			
Nhân vật	Dế Mèn (Bài học đường đời đầu tiên)	Bọ Dừa (Giọt sương đêm)	Nhân vật “Tôi” (Vừa nhắm mắt vừa mở cửa sổ)
Giống	Các nhân vật đều có những trải nghiệm đáng nhớ từ chính cuộc sống và qua các trải nghiệm đó, mỗi nhân vật đều rút ra được cho bản thân mình những bài học quý giá.		
Khác	Nhân vật trải qua vấp ngã, sai lầm khiến bản thân phải ân hận suốt đời. Từ đó rút ra bài học cho chính mình	Nhân vật trải qua một đêm thức trắng và sự tĩnh, nhận ra bản thân vì mãi buồn bán mà lãng quên quê nhà.	Nhân vật đã có những cảm nhận sâu sắc về cuộc sống thông qua những trải nghiệm từ thiên nhiên, con người xung quanh mình.

Câu 3 SGK/109:



Câu 4 SGK/109:

**Ôn tập bài 4:
Những trải nghiệm trong đời**



Câu 5 SGK/109:

**Ôn tập bài 4:
Những trải nghiệm trong đời**

Qua những gì đã học trong bài này, em nghĩ gì về ý nghĩa của trải nghiệm đối với cuộc sống của chúng ta

• Tham khảo:

- Qua những bài học này, em hiểu rằng trong cuộc sống những trải nghiệm sẽ giúp ta có thêm nhiều kinh nghiệm sống, biết cách cảm nhận thiên nhiên, con người. Từ đó, em hiểu được những giá trị trong cuộc sống và hoàn thiện nhân cách, tâm hồn mình hơn.

Bài 5: TRÒ CHUYỆN CÙNG THIÊN NHIÊN

I. TRI THỨC ĐỌC HIỂU (SGK/111)

PHIẾU HỌC TẬP

Dựa vào phần Tri thức đọc hiểu SGK/ 111 em hãy điền vào chỗ trống những khái niệm về kí, hồi kí, người kể chuyện, hình thức ghi chép và cách kể sự việc của hồi kí.

1. Kí

2. Hồi kí

Khái niệm

.....
.....
.....
.....
.....

Người kể chuyện

.....
.....
.....
.....
.....

Hình thức ghi chép và cách kể sự việc

- Hình thức ghi chép.....
.....
.....
- Cách kể sự việc.....
.....
.....

II. ĐỌC HIỂU VĂN BẢN 1: LAO XAO NGÀY HÈ

1. Chuẩn bị đọc:

- Tóm tắt văn bản “ Lao xao ngày hè”
- Vị trí đoạn trích

2. Trải nghiệm cùng văn bản:

- Đọc chú thích
- Đọc văn bản

3. Suy ngẫm và phản hồi:

a. Bố cục:

- Phần 1: “ Giời chớm hè ... Râm ran.”: Cảnh buổi sớm chớm hè ở làng quê.
- Phần 2: “ – Các ... ngủ cho mát.”: Thế giới các loài chim.
- Phần 3: “ Ôi cái mùa hè ... mùa hè này! ”: Cảm xúc về những ngày hè đã qua.

b. Tìm hiểu đặc trưng thể loại

* **Ngôi kể, người kể chuyện**

- Ngôi thứ nhất xưng “tôi”/ “chúng tôi”.

- Người kể chuyện: tác giả.

*** Cách kể sự việc:**

- Cách kể sự việc có sự kết hợp hài hòa giữa tự sự, miêu tả và biểu cảm.

→ Không khí ngày hè: tung bừng, náo nhiệt, sôi động, tràn đầy sức sống.

*** Hình thức ghi chép:**

	Biểu hiện	Giác quan cảm nhận	Nhận xét
Hình ảnh	<ul style="list-style-type: none">- Cây cối um tùm- Hoa lan nở trắng xoá- Hoa giẻ từng chùm- Ong vàng, ong vò vẽ...- Bướm hiền lành bỏ chỗ lao xao- Cả làng thơm- Hoa móng rồng thơm như mùi mít chín	<p>Thị giác</p> <p>Khứu giác</p>	Tác giả miêu tả bức tranh ngày hè bằng nhiều giác quan: thính giác, thị giác, khứu giác, có sự kết của các giác quan. Qua đó ta thấy được tâm hồn tinh tế, trong sáng, nhạy cảm và tình yêu thiên nhiên tha thiết.

c. Chủ đề của văn bản:

- Thể hiện tình yêu thiên nhiên, cuộc sống ngày hè qua chuỗi hồi ức của tác giả.

- Bức tranh sinh hoạt ngày hè.

- Cái lao xao của cuộc sống ngày hè.

d. Tình cảm, cảm xúc của tác giả:

- Cảm xúc khoan khoái, băng khuâng khi tận hưởng không khí riêng biệt của ngày hè.

- Trân trọng, mãn nguyện với hạnh phúc đơn sơ, bình bình, ấm áp.

- Nhớ thương, tiếc nuối những kỉ niệm vừa êm đềm vừa sôi nổi.
- Khao khát, mong ước thiết tha được mãi mãi tận hưởng cái lao xao ngày hè.

4. Tổng kết

- Nhận biết được một số yếu tố thể loại Kí.
- Người kể chuyện trong văn bản là tác giả Duy Khán ở thời điểm viết hồi kí Tuổi thơ im lặng, văn bản là chuỗi hồi ức về tuổi thơ của tác giả.
- Biết cách đọc. kể, tóm tắt một văn bản truyện.

Luyện tập/ Vận dụng

Hãy chia sẻ ấn tượng và cảm xúc của em khi học xong văn bản *Lao xao ngày hè*.

BÀI HỌC TUẦN 14 HKI TOÁN 6 NĂM HỌC 2021-2022

TIẾT 64 + 65 -BÀI 3: BIỂU ĐỒ TRANH

1. Ôn tập và bổ sung kiến thức.

Biểu đồ tranh sử dụng biểu tượng hoặc hình ảnh để thể hiện dữ liệu. Biểu đồ tranh có tính trực quan, dễ hiểu. Trong biểu đồ tranh, một biểu tượng (hoặc hình ảnh) có thể thay thế cho một số các đối tượng.

2. **Đọc biểu đồ tranh**

Chú ý: Để đọc và mô tả dữ liệu ở dạng biểu đồ tranh, trước hết ta cần xác định một hình ảnh (biểu tượng) thay thế cho bao nhiêu đối tượng. Từ số lượng hình ảnh (biểu tượng), ta sẽ có số đối tượng tương ứng.

Vận dụng:

a) Dưa hấu được các bạn học sinh khối lớp 6 yêu thích nhiều nhất.

b) Táo được các bạn học sinh khối lớp 6 yêu thích ít nhất.

c) Số lượng học sinh yêu thích đối với từng quả:

$10 \cdot 2 + 5 = 25 \Rightarrow$ Táo được 25 học sinh yêu thích.

$10 \cdot 5 = 50 \Rightarrow$ Chuối được 50 học sinh yêu thích.

$10 \cdot 7 = 70 \Rightarrow$ Dưa hấu được 70 học sinh yêu thích.

$10 \cdot 4 + 5 = 45 \Rightarrow$ Cam được 45 học sinh yêu thích.

$10 \cdot 6 = 60 \Rightarrow$ Bưởi được 60 học sinh yêu thích.

3. **Vẽ biểu đồ tranh**

Để biểu diễn dữ liệu thống kê từ bảng vào biểu đồ tranh, ta thực hiện các bước sau:

Bước 1: Chuẩn bị:

- Chọn biểu tượng (hoặc hình ảnh) đại diện cho dữ liệu cần biểu diễn.
- Xác định mỗi biểu tượng (hoặc hình ảnh) thay thế cho bao nhiêu đối tượng.

Bước 2 : Vẽ biểu đồ tranh:

- Biểu đồ tranh thường gồm hai cột :
 - + Cột 1: Danh sách phân loại đối tượng thống kê.
 - + Cột 2: Vẽ các biểu tượng thay thế đủ số lượng các đối tượng.

- Ghi tên biểu đồ và các chú thích số lượng tương ứng mỗi biểu tượng của biểu đồ tranh.

❖ **Thực hành:**

Từ bảng thống kê, ta vẽ được biểu đồ tranh như sau:

Màu xe đạp	Số xe bán được trong tháng
Xanh dương	○○
Xanh lá cây	○○
Đỏ	○○○
Vàng	○
Trắng bạc	○○○

❖ **HƯỚNG DẪN BÀI TẬP**

Bài 1 :

- Xã E có ít máy cày nhất (15 máy).
- Xã A có nhiều máy cày nhất (50 máy).
- Ta có: $50 - 15 = 35 \Rightarrow$ Xã E có nhiều hơn xã E **35** máy cày.
- Số máy cày 5 xã:

Xã A: 50 máy cày

Xã B: 45 máy cày

Xã C: 25 máy cày

Xã D: 40 máy cày

Xã E: 15 máy cày

\Rightarrow Tổng số máy cày: $50 + 45 + 25 + 40 + 15 = 175$ máy cày

Vậy: Tổng số máy cày của 5 xã là **175** máy cày.

Bài 2:

- Lớp 6A3 có ít học sinh nữ nhất (10 học sinh).
- Không.** Lớp 6A5 có 30 học sinh nữ, lớp 6A4 có 20 học sinh nữ \Rightarrow Lớp 6A4 có ít học sinh nữ hơn lớp 6A5.

c) Lớp 6A6 có **20** học sinh nữ.

d) Số học sinh nữ:

Lớp 6A1: 20 học sinh nữ

Lớp 6A2: 30 học sinh nữ

Lớp 6A3: 10 học sinh nữ

Lớp 6A4: 20 học sinh nữ

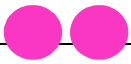




Lớp 6A5: 30 học sinh nữ

Lớp 6A6: 20 học sinh nữ

=> Tổng cộng: 130 học sinh nữ

Vậy: Tổng số học sinh nữ của các lớp khối là **130** học sinh.

Bài 3 :

Số xe ô tô bán được của cửa hàng A	
Năm	Số xe bán được
2016	
2017	
2018	
2019	
2020	

❖ HƯỚNG DẪN VỀ NHÀ

- Xem lại và ghi nhớ nội dung kiến thức của bài.
- Làm thêm các bài tập **2 + 5 + 6** (SBT –tr93, 94, 95)
- Đọc và chuẩn bị trước bài sau : “ **Biểu đồ cột – Biểu đồ cột kép**”.

ĐỀ CƯƠNG ÔN TẬP KT THI HỌC KỲ I TOÁN 6 NĂM HỌC 2021-2022

ĐỀ 1

Bài 1. Viết tập hợp A các số nguyên lớn hơn -4 và không vượt quá 4 bằng hai cách

Điền kí hiệu (\in, \notin) thích hợp vào ô vuông:

$$-4 \square A$$

$$0 \square A$$

$$5 \square A$$

$$4 \square A$$

Tìm ƯCLN (45, 75, 80) và BCNN (30, 42, 110)

Bài 2. Thực hiện phép tính:

1) $32.77 + 32.24 - 32$

2) $405 - 5 \cdot [107 - (29 - 25)^3]$

3) $5 \cdot 2^3 - (2012^0 + 17) : 3^2 + 1^7$

4) $3 \cdot \{29 - [2021^0 + 2 \cdot (2 \cdot 3^2 - 9^3 : 9^2)]\}$

Bài 3. Tìm x số tự nhiên, biết:

1) $42 + (x - 3) = 96$

2) $2x + 4 = 2^3 \cdot 120^0$

3) $5^{x+2} - 2016^0 = 124$

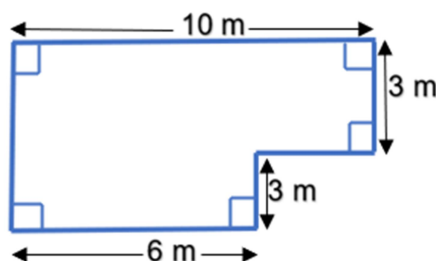
4) $20 : x$ và $x > 5$

Bài 4.

1) Số học sinh khối 6 của một trường trong khoảng từ 450 đến 500 em. Biết rằng, nếu xếp mỗi hàng 10 học sinh, 12 học sinh, 15 học sinh thì vừa đủ. Tính số học sinh khối 6 của trường đó?

2) Một lớp có 28 học sinh nam và 24 học sinh nữ. Trong một buổi lao động, lớp trưởng chia lớp thành nhiều tổ sao cho giữa các tổ có số bạn nam bằng nhau và số bạn nữ bằng nhau. Hỏi có thể chia được nhiều nhất bao nhiêu tổ như thế? Khi đó mỗi tổ có bao nhiêu nam? Bao nhiêu nữ?

Bài 5. Tính diện tích của hồ bơi có kích thước như hình vẽ sau:



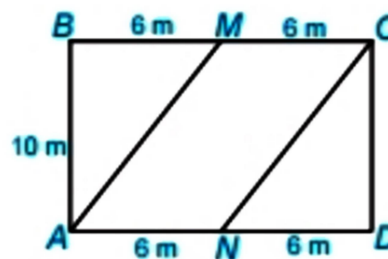
ĐỀ 2

Bài 1.

- a) Viết tập hợp B các số nguyên lớn hơn hoặc bằng -2 và không vượt quá 5 bằng hai cách
- b) Điền kí hiệu (\in, \notin) thích hợp vào ô vuông:
-3 \square B -2 \square B 8 \square B 5 \square B
- c) Tìm ƯCLN (42, 72, 84) và BCNN (28, 52, 144)

Bài 2. Thực hiện phép tính:

- a) $17.85 + 15.17 - 1200$
- b) $5^2.5 + 3^{10} : 3^7 - 2021^0$
- c) $2021 : \{2016 + [205 - (2^2 \cdot 35 + 60)]\}$
- d) $200 : \left[100 - (5^2 \cdot 2021^0 + 50)\right] + (7^2 - 6 \cdot 2^3)^{2021}$



Bài 3. Tìm số tự nhiên x, biết:

- a) $72 - 5x = 22$
- b) $(7x - 15) \cdot 8 - 21 = 27$
- c) $66 : x$ và x là nguyên tố.
- d) $x : 13$ và $20 \leq x < 66$

Bài 4. Vẽ hình chữ nhật ABCD có một chiều dài 5cm, chiều rộng 3cm.

Bài 5. Trên một mảnh đất hình chữ nhật có chiều dài 12m, chiều rộng 10m, người ta phân chia khu vực để trồng hoa, trồng cỏ như hình bên. Hoa sẽ được trồng ở trong khu vực hình bình hành AMCN, cỏ sẽ trồng ở phần đất còn lại. Tiền công để trả cho mỗi mét vuông trồng hoa là 50 000 đồng, trồng cỏ là 40 000 đồng. Tính số tiền công cần chi trả để trồng hoa và cỏ.

Bài 6.

- 1) Trong buổi lễ Sơ kết HKI, thầy Hiệu trưởng của một trường THCS trong quận Tân Bình khi trao phần thưởng cho các em học sinh giỏi một lần 15 học sinh, 18 học sinh hay 20 học sinh đều vừa đủ. Tính số học sinh giỏi của trường THCS đó? Biết số học sinh giỏi trường THCS đó trong khoảng 500 đến 600 học sinh.

- 2) Đề khen thưởng cho các học sinh đạt thành tích xuất sắc trong đợt thi đua chào mừng ngày nhà giáo Việt Nam 20/11 cô giáo chủ nhiệm mua 120 quyển vở, 72 hộp bút màu, 58 bút bi. Cô dự định chia thành các phần thưởng sao cho số quyển vở, hộp bút màu và bút bi của mỗi phần thưởng đều nhau. Hỏi cô có thể chia được nhiều nhất bao nhiêu phần thưởng ? Khi đó mỗi phần thưởng có bao nhiêu quyển vở, bao nhiêu hộp bút màu, bao nhiêu bút bi?

ĐỀ 3

Bài 1.

- a) Viết tập hợp D các số nguyên lớn hơn -6 và nhỏ hơn 3 bằng hai cách
b) Điền kí hiệu (\in, \notin) thích hợp vào ô vuông:
-6 D -4 D 3 D 1 D
c) ƯCLN(18, 42, 60) b) BCNN(20, 36, 45)

Bài 2. Thực hiện phép tính:

- a) $25 \cdot 73 + 27 \cdot 25$
b) $5^{16} : 5^{14} + 2 \cdot 2^3 - 2021^0$
c) $(-3) \cdot 4 + (-2)(-5) - 6 \cdot 8$
d) $[158 - 7 \cdot (2 \cdot 5^2 - 6^2)] : 12$

Bài 3. Tìm x, biết:

- a) $2x + 5 = 25$
b) $4(x - 3) = 3^2 \cdot 2^3$
c) $50 : x$ và x là hợp số

Bài 4. Toán thực tế:


Câu 1: Một kiệu hoa hồng có khoảng 100 đến 150 bông. Người ta bó thành từng bó 10 bông, 12 bông, 15 bông đều vừa đủ. Hỏi kiệu hoa hồng có tổng cộng bao nhiêu bông?

Câu 2: Một xí nghiệp sản xuất đồ bảo hộ lao động có chế độ thưởng và phạt như sau:

Một sản phẩm tốt được thưởng 30 000 đồng, một sản phẩm bị lỗi bị phạt 5 000 đồng. Chị Hoa làm được 50 sản phẩm tốt và 2 sản phẩm bị lỗi. Em hãy giúp chị Hoa thực hiện phép tính để biết chị nhận được bao nhiêu tiền.

Bài 5.

Một sân trường hình chữ nhật có chiều dài là 50m, chiều rộng là 30m. Người ta đặt 8 bồn hoa hình vuông có cạnh là 2m khắp sân trường như hình vẽ.



Hãy tính diện tích phần sân chơi (phần còn lại của sân trường)

ĐỀ 4

Bài 1. Thực hiện phép tính sau:

1) $15.141 + 59.15$

2) $40 : (-17 + 12) + 9$

3) $5^{10} : 5^8 + (28 - 25)^3 - 2016^0$

4) $320 : \{180 - [36 - (2^2 \cdot 16 - 2^2 \cdot 12)]\}$

Bài 2. Tìm x biết:

1) $2x - 128 = 2^3 \cdot 3^2$

2) $3(5x - 4) - 11 = 37$

3) $60 : x$ và x là số nguyên tố

4) $x : 17$ và $17 < x \leq 51$

Bài 3.

1) Viết tập hợp B các số nguyên lớn hơn hoặc bằng -2 và không vượt quá 5 bằng hai cách

2) Điền kí hiệu (\in, \notin) thích hợp vào ô vuông:

$-3 \square B$

$-2 \square B$

$8 \square B$

$5 \square B$

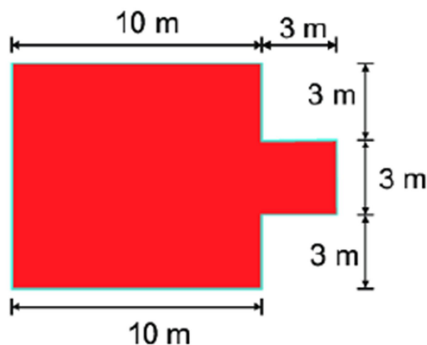
3) Tìm ƯCLN (180, 240) và BCNN (45, 60, 75)

Bài 4. Bố Linh mang 350 000 đồng vào siêu thị. Bố Linh đã mua 7 gói mì, 3kg cam và 5 hộp sữa. Giá mỗi gói mì là 6 500 đồng, mỗi ki-lo-gam cam là 39 000 đồng và mỗi hộp sữa là 30 000 đồng. Hỏi bố Linh còn lại bao nhiêu tiền ?

Bài 5.

- 1) Một trường THCS tổ chức cho học sinh khối 6 đi học tập ngoại khóa ở Củ Chi bằng xe du lịch. Biết rằng khối 6 có khoảng 700 đến 800 học sinh đi tham dự học tập ngoại khóa. Nếu sắp xếp 40 học sinh lên một xe hay 45 học sinh lên một xe thì vừa đủ. Tính số học sinh khối 6 tham dự học tập ngoại khóa.
- 2) Cô giáo chủ nhiệm muốn chia 24 quyển vở, 48 bút bi và 36 gói bánh thành một số phần thưởng như nhau để trao trong dịp sơ kết học kì. Hỏi có thể chia được nhiều nhất bao nhiêu phần thưởng? Khi đó mỗi phần thưởng có bao nhiêu quyển vở, bút bi và gói bánh?

Bài 6. Người ta cần xây tường rào cho một khu vườn như hình bên. Mỗi mét tường rào tốn 150 nghìn đồng. Hỏi cần bao nhiêu tiền để xây tường rào.



ĐỀ 5

Bài 1: Thực hiện phép tính:

a/ $35 \cdot 75 + 35 \cdot 25 - 500$;

b/ $2020^0 + 1400 : [281 - (11 - 2)^2]$

c/ Bỏ ngoặc rồi tính: $(89 + 22 - 25) - (79 + 12 - 85)$

Bài 2. Tìm x, biết:

a/ $8x - 48 = 160$;

b/ $45 - 3(7 + x) = 6$;

c/ $(-35) \cdot (x + 39) = -210$;

d/ $70 : x$ và $7 < x \leq 14$

Bài 3.

- 1) Để đảm bảo khoảng cách an toàn cho khoảng 100 đến 130 người đi tiêm vắc xin Covid-19 tại Trường THCS NQ buổi 1. Cán bộ y tế cho người đi tiêm xếp thành hàng 12, hàng 10 và hàng 15 người thì đều vừa đủ. Hỏi có bao nhiêu người đi tiêm vắc xin Covid-19 tại Trường THCS NQ buổi 1?
- 2) Lớp 6A1 có 24 nam và 18 nữ. Trong giờ học Toán, Cô Mai muốn chia lớp ra nhiều nhóm nhỏ để thực hiện hoạt động nhóm.
 - a) Hỏi có thể chia được nhiều nhất thành mấy nhóm để số học sinh nam và số học sinh nữ được chia đều vào các nhóm?
 - b) Khi đó Mỗi nhóm có bao nhiêu nam, bao nhiêu nữ ?

Bài 4. Vào một ngày mùa đông ở Sa Pa, nhiệt độ lúc 12 giờ trưa là 8°C , nhiệt độ lúc 17 giờ là -2°C .

a/ Nhiệt độ đã thay đổi bao nhiêu từ 12 giờ đến 17 giờ ?

b/ Nhiệt độ thay đổi ổn định từ trưa đến tối. Hỏi mỗi giờ nhiệt độ đã thay đổi bao nhiêu độ ?

Bài 5.

Quan sát hình dạng các đồng hồ sau và cho biết đồng hồ có dạng hình gì trong các hình mà em đã học?



Hình 1



Hình 2



Hình 3

Bài 6.

Nhân dịp ngày quốc tế phụ nữ 20/10, Hoa đã tự tay vẽ một bức tranh để tặng mẹ. Bức tranh hình chữ nhật có chiều rộng là 20 cm, chiều dài gấp đôi chiều rộng (như hình vẽ)



a) Tính diện tích của bức tranh?

b) Để món quà thêm phần ý nghĩa bạn Hoa muốn đóng khung bức tranh lại. Bằng kiến thức đã học em hãy giúp Hoa tính độ dài của khung bằng bao nhiêu? Biết độ dài của khung bằng chu vi của bức tranh hình chữ nhật.

TRAN VAN QUANG JUNIOR HIGH SCHOOL

NỘI DUNG ÔN KIỂM TRA HỌC KÌ I ANH VĂN 6

NĂM HỌC: 2021 – 2022

* **Nội dung**: Unit 1 đến Unit 5 (Từ Unit 3 đến Unit 5 chỉ lấy phần Lesson 1, 2).

* **Vocabulary**: Unit 1 đến Unit 5 (Từ Unit 3 đến Unit 5 chỉ lấy phần Lesson 1, 2).

* **Word form**: Unit 1 – Unit 5

1. I → mine
2. You → your
3. act → actor
4. perform → performance
5. invite → inviting
6. love → lovely
7. friend → friendly
8. help → helpful
9. rain → rainy/raining
10. fun → funny
11. excite → excited / exciting
12. luck → lucky
13. bore → boring
14. health → healthy
15. fry → fried
16. good → well

* **Grammar**:

1. Simple Present + , - , ?
2. Present Continuous + , - , ?
3. Like + V-ing
4. Countable Noun – Uncountable Noun
5. And/ or
6. Adverbs of Frequency
7. Adjective Pronoun.

* **Transformation**.

1. likebest.
→ favorite
2. like = love = enjoy = be interested in + V-ing
3. There are/ is

S + have / has.....

4. on time

→ never late.....

5. V.....well

→ be good at + V-ing.....

6. want = would like

PRACTICE TEST 1 GRADE 6

I. Choose the word whose underlined part is pronounced differently from that of the the others (0,5 pt)

1. A. live B. dishes C. idea D. milk
2. A. novel B. soccer C. role D. comic

II. Choose the word that has a different stressed syllable from the rest.(0.5pt)

3. A. center B. balcony C. basement D. apartment
4. A. secret B. scary C. event D. outdoor

III. MULTIPLE CHOICE: (3.0 pts)

5. Tuan often eats *Banh mi* for _____ and *Pho* for lunch.
a. laundry b. living room c. breakfast d. none is correct
6. My grandmother usually _____ early to go jogging around the park.
a. gets up b. got up c. get up d. will get up
7. This city is famous _____ beautiful houses and museums.
a. of b. for c. in d. all are correct
8. Where _____ live in this town?
a. does she b. does you c. do he d. she does
9. In a _____ class, you study about living things like plants and animals.
A. literature B. science C. biology D. physics
10. Nguyễn Nhật Ánh is the _____ of several story books for teenagers such as *Yellow Flowers on the Green Grass*.
A. actor B. character C. author D. maker
11. My parents like watching TV in the _____ on weekends.
a. balcony b. pool c. living room d. garage
12. "Is your dad meeting you at the station?" – " _____"
A. Yes, he does. B. No, I'm not. C. Yes, he is. D. Yes, I'd love to.
13. How often do you go to the cinema? - _____
A. Yes, I love it. B. Not really. C. Next Wednesday. D. Once or twice a month
14. I _____ chat with people I don't know because it's dangerous.
A. never B. sometimes C. always D. usually
15. _____ this program or can I turn the TV off?
A. You watch B. Are you watching C. Do you watch D. Did you watch
16. I want to check out the _____. All the dishes look delicious.
A. food stands B. talent show C. puppet show D. tug of war

IV. Look at the signs. Choose the best answer (A, B, C

17. What does the sign mean?

- A. You can eat in this restaurant.
B. You can't eat inside this restaurant.



or D) for each sign. (0.5pt)

- C. This restaurant doesn't open.
- D. You can't buy any food in this restaurant.

18. What does the sign mean?
- A. You can't park your car here.
 - B. You can park your car here.
 - C. There aren't many cars here.
 - D. You can buy cars here.



V. Fill in the blanks with the most suitable words in the box. There are TWO EXTRA words. (1.5 pts)

practice indoor work excited outdoor fun sign up exciting

Hello, everyone!

We have a great news. It's our turn to host the Weekend Playground next Saturday on our school campus. It starts at 9 a.m. and ends at 8 p.m. Admission is free for all of students as usual. You can invite your friends to come and have (19) _____ together. We have lots of activities for you to join. For (20) _____ activities, there is a soccer game at 3 p.m. To join the teams, you need to (21) _____ on the school's website before the end of this week. You also need to (22) _____ with your team before the game begins. For (23) _____ activities, the Arts and Crafts Room opens all day for those who like making things. We also have an interesting show – Romeo and Juliet performed by our Drama Club at 6 p.m. We're really(24) _____ to welcome you all.

VI. A. Read the passage carefully, then decide if the statements are True or False (1.0 pt)

Dear Stella,

Thanks for letting me know about your hometown.

Let me tell you about my hometown, Burano. Burano is an island in the north of Italy, about 7 km from Venice. You can take a 40-minute waterbus ride from Venice. It is famous for its colorful houses. You can take great photos wherever you are on the island. Burano is also famous for its seafood. A lot of restaurants serve great, fresh seafood at cheap prices. Burano is very quiet and peaceful. About three thousand people live here.

It is better to visit Burano in summer because it is very cold in winter.

Please write back soon. I want to know about your family.

Your friend,

Ricardo

- 25. Stella lives in Burano. _____.
- 26. Ricardo lives on an island in Italy. _____.
- 27. It takes 40 minutes to get to Burano from Venice by bus. _____.
- 28. Many restaurants in Burano serve cheap fresh seafood. _____.

B. Read the passage again and choose the best answer (A, B, C, or D) (0,5 pt)

- 29. The word "It" on the third line is:
 A. Burano B. Venice C. Italy D. house
- 30. The passage is about:
 A. Ricardo's house B. Stella's hometown
 C. Many beautiful places in Ricardo's hometown. D. The beautiful beaches.

VII. WORD FORMS: (1pt)

- 31. Thank you for _____ me to your birthday party. (INVITE)
- 32. There are many _____ landscapes in this village, so it is extremely attractive to tourists. (BEAUTY)
- 33. I am really _____ about the talent show tomorrow. (EXCITE)

34. My favorite dish is _____ rice with eggs. It's very delicious. (FRY)

VIII. REARRANGEMENT: (0.5pt)

35. in the town/Do/live/you/in the big city?/or

36. A village/ doesn't have/ and it/ is/ in the countryside/a lot of houses.

IX. TRANSFORMATION: (1.0pt)

37. Susan likes Math best.

Susan's _____

38. There are 40 students in our class.

Our class _____

39. My father is good at playing badminton.

My father _____

40. Her children want to come to National Park.

Her children would _____

End – Of – Test

PRACTICE TEST 2 GRADE 6

I. Choose the word whose underlined part is pronounced differently from that of the others (0,5 pt)

1. A. herbs B. check C. lemon D. egg
2. A. sandwich B. salad C. later D. jacket

II. Choose the word that has a different stressed syllable from the rest. (0.5pt)

3. A. parade B. special C. sometimes D. candy
4. A. decorate B. festival C. performance D. celebrate

III. MULTIPLE CHOICE: (3.0 pts)

5. I _____ go to the movies. Maybe just once or twice a year.

- A. always B. rarely C. sometimes D. often

6. Daniel _____ martial arts in the evenings.

- A. is often B. often do C. often does D. often have

7. How many people _____ in your family?

- A. there are B. are there C. there is D. is there

8. My parents like watching TV in the _____ on weekends.

- A. balcony B. pool C. living room D. garage

9. Mai: Do you have any brothers or sisters?

Hung: _____.

- A. Yes, I am B. No, I am not C. No, I do not. D. Yes, it is

10. Do you know any other books _____ Nguyễn Nhật Ánh?

- A. of B. for C. by D. from

11. I don't like watching horror movies. They're _____.

- A. scary B. fantastic C. exciting D. funny

12. Before I buy a new book, I often read _____ about it on the Internet.

- A. stories B. reviews C. events D. writers

13. *Harry Potter* is a series of seven _____ novels by J. K. Rowling, a British author.

- A. adventure B. magic C. secret D. fantasy
14. We're having _____ in our garden on the weekend.
- A. video games B. badminton C. a barbecue D. picnic
15. Alice always thinks about herself and never about other people. She's _____.
- A. kind B. selfish C. lazy D. slim
16. My dad _____ breakfast for my family every day.
- A. is cooking B. cooks C. cook D. will cook

IV. Look at the signs. Choose the best answer (A, B, C or D) for each sign. (0.5pt)

17. What does the sign mean?

- A. Fishing
 B. No diving
 C. No swimming
 D. No surfing



18. What does the sign mean?

- A. You must not go fishing here.
 B. There are no fish in this river.
 C. You can fish here.
 D. There are many fish in this river.



V. Fill in the blanks with the most suitable words in the box. There are TWO EXTRA words. (1.5 pts)

from Camilla's hair a lot of lots gives with friendly share
--

My cousin's name is Camilla. She's very different (19) _____ me. Her hair is blond, not dark like mine. It's very long. My hair is curly, but (20) _____ is very straight. She has beautiful blue eyes (like the sky). She's quite short and I'm very tall. We don't (21) _____ the same hobbies and interests, but we have (22) _____ fun together. Camilla is (23) _____ and cheerful. She is also a good listener. She always helps me and (24) _____ me good advice. We often go to each other's houses on the weekend. We play video games, watch TV or sometimes we play music together.

VI. A. Read the passage carefully, then decide if the statements are True or False (1.0 pt)

Chris and Liam Hemsworth are brothers. They're from Australia, but they aren't really Australian. Their grandfather is Dutch, from the Netherlands. Chris is thirty-two years old and Liam is twenty-seven. They are tall and handsome, and are both famous actors. In family photographs, they look very similar; they both have short hair and blue eyes. But in films, **they** are completely different. Liam is Gale in the three *Hunger Games* films. Gale is a very brave and strong young man with short dark hair. He can fight and hunt, and he can shoot arrows. He's also an angry young man. Chris is Thor, the superhero in the *Thor* and *Avengers* films. Thor's big and strong with long blond hair. He can shoot lightning. Gale can't do that.

25. Chris and Liam come from Australia. _____
26. Chris and Liam have short hair and blue eyes. _____
27. Gale and Thor aren't very different. _____
28. Thor is big and has long blond hair. _____

B. Read the passage again and choose the best answer (A, B, C, or D) (0,5 pt)

29. The word “they” on the fourth line are:

- A. Chris and Liam B. Liam and Gale C. Chris and Thor D. Gale and Thor

30. The passage is about:

- A. The difference between Liam and Chris B. Famous actors
C. Famous film D. A & B are correct.

VII. WORD FORMS: (1pt)

31. What do you do in _____ P.E. class? (YOU)

32. Would you like to go to the _____ of our drama group this evening? (PERFORM)

33. These snacks are full of sugar and salt. They are not _____. (HEALTH)

34. During *Tết*, children wear new clothes and receive _____ money. (LUCK)

VIII. REARRANGEMENT: (0.5pt)

35. like/ you/ drink/ What/ to/ would/?

→ _____

36. wearing/ She/ blue T-shirt/ is/ jeans/ a/ and/.

→ _____

IX. TRANSFORMATION: (1.0pt)

37. Nam is never late for school.

→ Nam _____

38. They enjoy speaking English after school.

→ They are _____

39. How many chairs does your class have?

→ How many chairs _____ ?

40. He would like to eat fried chicken in the evening.

→ He _____

End – Of – Test

PRACTICE TEST 3 GRADE 6

I. Choose the word whose underlined part is pronounced differently from that of the the others (0,5 pt)

1. A. bs B. fn C. sn D. bsy
2. A. terrible B. cable C. syllable D. block

II. Choose the word that has a different stressed syllable from the rest.(0.5pt)

3. A. museum B. laundry C. village D. Kitchen
4. A. restaurant B. delicious C. hamburger D. customer

III. MULTIPLE CHOICE: (3.0 pts)

5. This city is famous _____ beautiful houses and museums.

- a. of b. for c. in d. all are correct

6. There are many beautiful _____ in this city.

- a. apartments b. dishes c. mountains d. Subjects

7. _____ you often go shopping with your mother?

- a. Do b. Does c. What d. Where

8. What is your _____ subject at school?

- A. interest B. favorite C. liking D. favorites
9. My favorite subject is _____ because I like learning about mountains and rivers of different countries in the world.
- A. art B. geography C. physics D. history
10. I want to sign up _____ the Music Club this year.
- A. in B. at C. for D. by
11. Can I borrow your eraser? I can't find _____.
- A. yours B. me C. my D. mine
12. Today we're wearing _____ because it's hot.
- A. shorts B. hat C. sweaters D. jacket
13. "Is your dad meeting you at the station?" – " _____ "
- A. Yes, he does. B. No, I'm not. C. Yes, he is. D. Yes, I'd love to.
14. Your _____ looks very warm.
- A. jeans B. sneakers C. sweater D. coats
15. Alice always thinks about herself and never about other people. She's _____.
- A. kind B. selfish C. lazy D. slim
16. This dress is beautiful. Can I try _____ ?
- A. on it B. it on C. them in D. them

IV. Look at the signs. Choose the best answer (A, B, C or D) for each sign. (0.5pt)

17. What does the sign mean?

- A. People don't sell shoes in this place.
 B. Please remove your shoes when you enter this place.
 C. You can find shoes when you are in this place.
 D. Don't buy shoes when you enter this place.



18. What does the sign mean?

- A. You should use phone.
 B. You can use phone.
 C. You must use phone.
 D. You must not use phone



V. Fill in the blanks with the most suitable words in the box. There are TWO EXTRA words. (1.5 pts)

the	south	for	on	a	grow	is	growing
-----	-------	-----	----	---	------	----	---------

Can Tho is a city in the (19) _____ of Vietnam. It is in the Mekong Delta (20) _____ the Hau River. Many people live in Can Tho. It is (21) _____ big city. Lots of people visit its floating markets and beautiful rivers. The weather is hot. It is very good (22) _____ growing food. Farmers (23) _____ rice, vegetables, and different fruits. It (24) _____ an important center for business and transportation.

VI. A. Read the passage carefully, then decide if the statements are True or False (1.0 pt)

My favorite novel is Five Point Someone. It is an India novel. The author is Chetan Bhagat. The story is about three students, Fahan, Raju and Ranchoddas. They work hard and become successful after finishing school. **They** help each other a lot. This shows people that they can learn new things anywhere. People then made the novel into a popular Indian movie called 3 Idiots in 2009. Millions of young adults and teenagers love the novel and the movie.

25. Five Point Someone is an Indian novel. _____

26. The book shows people can only learn in classroom. _____
27. The novel has changed into the movie in 2008. _____
28. Millions of children love the novel. _____

B. Read the passage again and choose the best answer (A, B, C, or D) (0,5 pt)

29. The word “**they**” on the third line is:
 A. Five Point Someone B. Fahan, Raju C. Chetan Bhagat D. Ranchoddas, Raju and Fahan
30. The passage is about:
 A. A famous movie in India B. Famous actors in India
 C. Famous characters D. Famous teenagers.

VII. WORD FORMS: (1pt)

31. The story of the movie isn't very interesting, but the _____ perform really well. (**ACT**)
32. I am really _____ about the talent show tomorrow. (**EXCITE**)
33. You should drink lots of milk because it is good for your _____. (**HEALTHY**)
34. My mom can't go shopping because it's _____ outside. (**RAIN**)

VIII. REARRANGEMENT: (0.5pt)

35. My brother/ sometimes play video games/ his friends/ with/ after school.
 → _____
36. Is / movie / watching / at / tonight? / home / a / she
 → _____

IX. TRANSFORMATION: (1.0pt)

37. There are lots of bells on the Christmas tree.
 → On the Christmas tree _____
38. She likes badminton best.
 → Her _____
39. Ba is good at playing guitar.
 → Ba _____
40. What does Liz like doing?
 → What _____

****End – Of – Test****

PRACTICE TEST 4

I. Choose the word whose underlined part is pronounced differently from that of the the others (0,5 pt)

1. A. make B. cake C. village D. paper
2. A. wear B. sneakers C. beach D. clean

II. Choose the word that has a different stress pattern from that of the others (0,5 pt)

3. A. badminton B. barbecue C. appearance D. Saturday
4. A. soccer B. cartoon C. picnic D. sweater

III. MULTIPLE CHOICE : (3pts)

5. This city is famous _____ beautiful houses and museums.
 a. of b. for c. in d. all are correct
6. Tuan often eats Banh mi for _____ and Pho for lunch.

clean her room. My dad cleans her room after work. He's a chef in a restaurant so he makes dinner. He _____ (24) the laundry and cleans the bathroom, too. Hmm. Now, I really think about it, my dad does the most housework.

VI. A. (Câu 25 đến 28) Read the passage carefully, then decide if the statements are True or False (1.0 pt) B. (Câu 29,30) Read the passage again and choose the best answer (A, B, C, or D) (0,5 pt)

Hello everyone, my name's Jo. I am reading an interesting series of fantasy novels, *Harry Potter*, by the famous British **author** J. K. Rowling. In this series, Harry Potter, Hermione Granger and Ron Weasley are my most favorite characters. They study at Hogwarts – a magic school, and they use their magic to help their friends. All the teachers and students in the school have magic, too. They can fly to school, but they cannot use their magic outside school. One day, there is a war between Hogwarts' students and some dark magic teachers. Harry and his friends save everyone from danger. I learn a lot of good lessons about friendship from this book series. This is why I love it the most. I think you should read it too, and I hope you will share your favorite books with me. It will be great!

True or False

- 25. *Harry Potter* is a series of fantasy novels. _____
- 26. Not many people know about the author of this series. _____
- 27. Ron Weasley is a teacher at Hogwarts. _____
- 28. Only teachers at Hogwarts can use magic to fly to school. _____

B. Choose the best answer

- 29. What is the passage mainly about?
A. J. K. Rowling B. Harry C. Hogwarts D. the novel "Harry Potter"
- 30. The word "author" means
A. teacher B. writer C. farmer D. people

VII. WORD FORMS: (1pt)

- 31. Janina and Kim can't go shopping now because it's _____ hard. (RAIN)
- 32. Thank you for _____ me to your birthday party. (INVITE)
- 33. Today is a _____ day. We can play badminton in the garden. (LOVE)
- 34. She is pretty, with long hair and a _____ smile. (FRIEND)

VIII. REARRANGEMENT: (0.5pt)

- 35. has/ hair/ brown/ teacher/ Our/.
→ Our
- 36. We/ usually/ on/ home/ are/ at/ Sundays/.
→ We

IX. TRANSFORMATION: (1.0pt)

- 37. We want to go a fashion show.
→ We would like
- 38. She likes tennis best.
→ Her favorite
- 39. There are two supermarkets in my home town.
→ My home town has
- 40. They are interested in swimming in the summer.

→ They love

PRACTICE TEST 5

I. Choose the word whose underlined part is pronounced differently from that of the others (0,5 pt)

1. A. bus B. fun C. sun D. busy
2. A. bike B. fine C. nice D. delicious



II. Choose the word that has a different stress pattern from that of the others (0,5 pt)

3. A. badminton B. barbecue C. appearance D. Saturday
4. A. museum B. laundry C. village D. kitchen

III. MULTIPLE CHOICE : (3pts)

5. My mother _____ eating fast food or drinking coffee.
a. do not like b. does not like c. does not likes d. do not likes
6. Adrian: Excuse me, Alex. Do you live in a house?
Sarah: No, _____. I live in an apartment.
a. I doesn't b. I don't c. It is not d. I am not
7. How many people _____ in your family?
a. there are b. are there c. there is d. is there
8. I want to sign up _____ the Music Club this year.
A. in B. at C. for D. by
9. Can I borrow your eraser? I can't find _____.
A. yours B. me C. my D. mine
10. There isn't a gym _____ a swimming pool near my house.
A. and B. or C. but D. both A and B are correct
11. My favorite subject is _____ because I like learning about mountains and rivers of different countries in the world.
A. art B. geography C. physics D. history
12. I don't like watching horror movies. They're _____.
A. scary B. fantastic C. exciting D. funny
13. I _____ chat with people I don't know because it's dangerous.
A. never B. sometimes C. always D. usually
14. My dad _____ breakfast for my family every day.
A. is cooking B. cooks C. cook D. will cook
15. Tom and Jimmy are _____ to music right now.
A. listen B. listening C. is listening D. listens
16. I often eat _____ apple after lunch.
A. a B. some C. any D. an

IV. Look at the signs. Choose the best answer (A, B, C or D) for each sign. (0.5pt)

17. What does the sign mean?		A. You can't park your car here. B. You can park your car here. C. There aren't many cars here. D. You can buy cars here.
18. What does the sign mean?		A. You must not go fishing here. B. There are no fish in this river. C. You can fish here. D. There are many fish in this river.

V. Fill in the blanks with the most suitable words in the box. There are TWO EXTRA words. (1.5 pts)

practice , indoor , boring , outdoor , excited , fun , make , sign up

Hello, everyone!

We have a great news. It's our turn to host the Weekend Playground next Saturday on our school campus. It starts at 9 a.m. and ends at 8 p.m. Admission is free for all of students as usual. You can invite your friends to come and have (19) _____ together. We have lots of activities for you to join. For (20) _____ activities, there is a soccer game at 3 p.m. To join the teams, you need to (21) _____ on the school's website before the end of this week. You also need to (22) _____ with your team before the game begins. For (23) _____ activities, the Arts and Crafts Room opens all day for those who like making things. We also have an interesting show – Romeo and Juliet performed by our Drama Club at 6 p.m. We're really (24) _____ to welcome you all.

VI. A. (Câu 25 đến 28) Read the passage carefully, then decide if the statements are True or False (1.0 pt) B. (Câu 29,30) Read the passage again and choose the best answer (A, B, C, or D) (0,5 pt)

Chris and Liam Hemsworth are brothers. They're from Australia, but they aren't really Australian. Their grandfather is Dutch, from the Netherlands. Chris is thirty-two years old and Liam is twenty-seven. They are tall and handsome, and are both famous actors. In family photographs, they look very **similar**; they both have short hair and blue eyes. But in films, they are completely different. Liam is Gale in the three *Hunger Games* films. Gale is a very brave and strong young man with short dark hair. He can fight and hunt, and he can shoot arrows. He's also an angry young man. Chris is Thor, the superhero in the *Thor* and *Avengers* films. Thor's big and strong with long blond hair. He can shoot lightning. Gale can't do that.

A. True or False

- 25. Chris and Liam come from Australia. _____
- 26. Chris and Liam have short hair and blue eyes. _____
- 27. Gale and Thor aren't very different. _____
- 28. Thor is big and has long blond hair. _____

B. Choose the best answer

- 29. What is the passage mainly about?

- A. films B. Chris C. their friends D. Chris and Liam Hemsworth.
 30. What is the word “similar” mean?
 A. same B. different C. ugly D. beautiful

VII. WORD FORMS: (1pt)

31. Simon is very _____ when his friends have problems with their homework. (HELP)
 32. Our English teacher is _____. She tells great jokes and makes us laugh. (FUN)
 33. My favorite dish is _____ rice with eggs. It’s very delicious. (FRY)
 34. These snacks are full of sugar and salt. They are not _____. (HEALTH)

VIII. REARRANGEMENT: (0.5pt)

35. wearing/ She/ a T-shirt/ is/ jeans/ and blue/.
 → She
36. sometimes/ My mother/ with/ helps me/ my homework/.
 → My mother

IX. TRANSFORMATION: (1.0pt)

37. He likes basketball best.
 → His favorite
38. Tom is interested in reading comic books.
 → Tom likes
39. There is a balcony in my house.
 → My house has
40. We always go to school on time.
 → We are never

BÀI 20: CÁC CẤP ĐỘ TỔ CHỨC TRONG CƠ THỂ ĐA BÀO

1/ Từ tế bào đến mô

- Mô là tập hợp một nhóm tế bào giống nhau về hình dạng và cùng thực hiện một chức năng nhất định.
- Mô thực vật: mô phân sinh, mô biểu bì, mô dẫn, mô cơ bản.
- Mô động vật: mô cơ, mô thần kinh, mô liên kết, mô biểu bì.

2/ Từ mô đến cơ quan

- Cơ quan là tập hợp của nhiều mô cùng thực hiện một chức năng trong cơ thể.
- Cơ quan ở thực vật: rễ, thân, lá, hoa, quả, hạt.
- Cơ quan ở động vật: dạ dày, ruột, gan, tim, phổi, mắt, mũi, miệng, ...

3/ Từ cơ quan đến cơ thể

- Hệ cơ quan là tập hợp một số cơ quan cùng hoạt động để thực hiện một chức năng nhất định.
- + Ở thực vật: Hệ cơ quan được chia thành hệ chồi và hệ rễ.
- + Ở động vật: Hệ vận động (cơ, xương); hệ tuần hoàn (tim, mạch máu, máu); hệ hô hấp (mũi, hầu, thanh quản, khí quản, phổi), hệ bài tiết (thận, ống dẫn nước tiểu, bóng đái, ống đái); ...
- Cơ thể đa bào được cấu tạo từ nhiều cơ quan và hệ cơ quan. Các cơ quan cùng thực hiện một chức năng tạo thành hệ cơ quan, các hệ cơ quan hoạt động thống nhất, nhịp nhàng để thực hiện chức năng sống.

BÀI 21: THỰC HÀNH QUAN SÁT SINH VẬT

- Quan sát cơ thể đơn bào
- Quan sát các cơ quan cấu tạo cây xanh
- Quan sát mô hình hoặc tranh ảnh cấu tạo cơ thể người

LỊCH SỬ 6 TUẦN 14 TỪ NGÀY 6/12 - 11/12/2021

CHƯƠNG V. VIỆT NAM TỪ KHOẢNG THẾ KỈ VII TRƯỚC CÔNG NGUYÊN ĐẾN ĐẦU THẾ KỈ X

BÀI 14. NHÀ NƯỚC VĂN LANG ÂU LẠC

1. Nhà nước Văn Lang

a. Sự ra đời nhà nước Văn Lang.

- Cách ngày nay khoảng 2000 năm, cư dân Việt cổ mở rộng địa bàn cư trú xuống đồng bằng châu thổ các dòng sông lớn ở Bắc Bộ và Bắc Trung Bộ ngày nay.
- Bộ lạc mạnh nhất là Văn Lang, cư trú trên vùng đất ven sông Hồng từ Việt Trì (Phú Thọ) đến chân núi Ba Vì (Hà Nội) ngày nay.
- Những bộ lạc lớn dần hình thành, gắn gũi nhau về tiếng nói và sản xuất.
- Nhu cầu trị thủy, đối phó với lũ lụt, bảo vệ mùa màng thúc đẩy sự liên kết giữa các bộ lạc.
- Khoảng thế kỉ VII TCN thủ lĩnh Văn Lang đã hợp nhất các bộ lạc, tự xưng là Hùng Vương.
- Địa bàn cư trú: vùng đất ven sông Hồng từ Việt Trì (Phú Thọ) đến chân núi Ba Vì (Hà Nội) ngày nay.

b. Tổ chức nhà nước Văn Lang.

- Đứng đầu nhà nước Văn Lang là Hùng Vương, cả nước chia thành 15 bộ, giúp việc cho vua có Lạc hầu, Lạc tướng.
- Đứng đầu các bộ là Lạc tướng, đứng đầu Chiềng, Chạ là Bồ Chính.
- Nhà nước được tổ chức đơn giản; sơ khai, chưa có quân đội, chưa có luật pháp. Nhà nước Văn Lang tuy đơn giản nhưng đã là tổ chức chính quyền cai quản nhà nước.

2. Nhà nước Âu Lạc.

- Năm 214 TCN, quân Tần đánh xuống vùng đất sinh sống của các bộ tộc Việt.
- Thục Phán lãnh đạo người Lạc Việt và Âu Việt chống lại quân Tần.
- Năm 208 TCN, tướng giặc là Đồ Thư bị giết, quân Tần gặp nhiều khó khăn phải rút về nước.
- Thục Phán xưng là An Dương Vương, đổi tên nước thành Âu Lạc, dời đô về Phong Khê.
- Tổ chức bộ máy nhà nước thời Âu Lạc không thay đổi nhiều nhưng chặt chẽ hơn so với thời Văn Lang, vua có quyền thế hơn trong việc trị nước.



ĐỊA LÍ 6 - TUẦN 14
BÀI 9 CẤU TẠO CỦA TRÁI ĐẤT.
ĐỘNG ĐẤT VÀ NÚI LỬA
(TIẾT 1)

I/ Cấu tạo của Trái Đất

- Trái Đất cấu tạo gồm 3 lớp.

(Bảng chuẩn kiến thức)

Đặc điểm	Lớp vỏ	Lớp manti	Lớp nhân
Độ dày	Dày từ 5-70km	Gần 3000km	Trên 3000km
Trạng thái	Trạng thái rắn chắc	Trạng thái từ quánh dẻo đến lỏng	Trạng thái lỏng đến rắn
Nhiệt độ.	Nhiệt độ tối đa 1000 ⁰ C.	Khoảng 1500-4700 ⁰ C.	Khoảng 4700 - 5000 ⁰ C.

II/ Các mảng kiến tạo

Có 7 Mảng kiến tạo:

- Mảng Âu – Á,
- Mảng Thái Bình Dương,
- Mảng Ấn Độ - Ô-xtrây-li-a,
- Mảng Phi,
- Mảng Bắc Mỹ,
- Mảng Nam Mỹ,
- Mảng Nam Cực

+ Các địa mảng có sự đi chuyển tách xa nhau hoặc xô vào nhau.

+ Các cặp mảng xô vào nhau: mảng Âu - Á và mảng Ấn Độ - Ô-xtrây-li-a, mảng Thái

Bình Dương và mảng Âu - Á, mảng Thái Bình Dương và mảng Bắc Mỹ

Trường THCS Trần Văn Quang O Tân Bình

BÀI GHI LỚP 6 MÔN GDCD

Tuần 14 (06/12 - 11/12/21)

BÀI 5 : TỰ LẬP (Tiết 2)

I. Thông tin- sự kiện:

II. Nội dung bài học:

1. Tự lập

- Là tự làm lấy , tự giải quyết công việc của mình , tự lo liệu, tạo dựng cho cuộc sống của mình; không trông chờ, dựa dẫm, phụ thuộc vào người khác.

2. Biểu hiện :

- Tự tin, bản lĩnh, kiên trì, dám đương đầu với khó khăn , có ý chí vươn lên trong học tập và trong cuộc sống ...
- **Trái với tự lập:** Lười biếng, ỷ lại, dựa dẫm vào người khác,...

3. Ý nghĩa:

- Giúp con người thành công trong cuộc sống
- Được mọi người yêu mến, quý trọng
- Đứng vững trước mọi khó khăn, thách thức trong cuộc sống...

III. Bài tập

Tìm những câu ca dao tục ngữ nói về tính tự lập hoặc trái ngược với tính tự lập HS rèn luyện tính tự lập trong cuộc sống như thế nào ?

IV. Dặn dò

- Ôn tập chuẩn bị kiểm tra cuối kì 1
- Xem lại tất cả bài tập

Bài tập trắc nghiệm – Bài 5 : Tự lập

Câu 1: Câu tục ngữ: Hữu thân hữu khổ nói đến điều gì?

- A. Đoàn kết. B. Trung thực. C. Tự lập. D. Tiết kiệm.

Câu 2: Tự làm, tự giải quyết công việc, tự lo liệu, tạo dựng cuộc sống cho mình được gọi là?

- A. Trung thành. B. Trung thực. C. Tự lập. D. Tiết kiệm.

Câu 3: Các hoạt động thể hiện tính tự lập là?

- A. Đi học đúng giờ.
B. Học bài cũ và chuẩn bị bài cũ.
C. Học kinh doanh để kiếm thêm thu nhập.
D. Cả A, B, C.

Câu 4: Các hoạt động thể hiện không có tính tự lập là?

- A. Nhờ bạn chép bài hộ.
B. Ở nhà chơi, xin tiền bố mẹ đi lấy vợ.
C. Tự giặt quần áo của mình.
D. Cả A, B, C.

Câu 5: Đối lập với tự lập là?

- A. Tự tin. B. Ích kỉ. C. Tự chủ. D. Ỡ lại.

Câu 6: Bạn Q học lớp 9, bạn chỉ ăn và học, việc nhà thường để cho bố mẹ làm hết, quần áo bố mẹ vẫn giặt cho. Việc làm đó thể hiện điều gì?

- A. Bạn Q là người Ỡ lại.
B. Bạn Q là người ích kỉ.
C. Bạn Q là người tự lập.
D. Bạn Q là người vô ý thức.

Câu 7: Người có tính tự lập họ sẽ nhận được điều gì?

- A. Thành công trong cuộc sống.
B. Mọi người kính trọng.
C. Trưởng thành hơn.
D. Cả A, B, C.

Câu 8: Mỗi buổi tối, cứ ăn cơm xong là bạn E giúp mẹ dọn dẹp, rửa bát sau đó lấy sách vở ra học bài. Việc làm đó thể hiện điều gì?

- A. E là người tự lập.
- B. E là người ỷ lại.
- C. E là người tự tin.
- D. E là người tự ti.

Câu 9: Nick Vujicic - người đàn ông không tay không chân nhưng nổi tiếng với nghị lực phi thường đã truyền niềm tin, sức mạnh cho hàng triệu người trên thế giới. Anh hiện là chủ tịch và CEO tổ chức quốc tế Life Without Limbs, Giám đốc công ty thái độ sống Attitude Is Altitude. Nick viết bằng 2 ngón chân trên bàn chân trái và biết cách cầm các đồ vật bằng ngón chân của mình. Anh biết dùng máy tính và có khả năng đánh máy 45 từ/phút bằng phương pháp “gót và ngón chân”. Anh cũng học cách ném bóng tennis, chơi trống, tự lấy cốc nước, chải tóc, đánh răng, trả lời điện thoại, cạo râu, chơi golf, bơi lội và thậm chí cả nhảy dù. Câu chuyện của Nick nói lên đức tính gì?

- A. Tự lập. B. Tự chủ. C. Tự tin. D. Dũng cảm.

Câu 10: Để học cách tự lập theo em cần phải làm gì?

- A. Làm những việc vừa sức với mình.
- B. Chủ động học hỏi những điều không biết.
- C. Tích cực học tập, nghiên cứu khoa học để có công việc tốt.
- D. Cả A, B, C.

Trường THCS Trần Văn Quang

Tuần 14(Từ 29/11 đến 12/12/2021) - Môn : Công nghệ 6

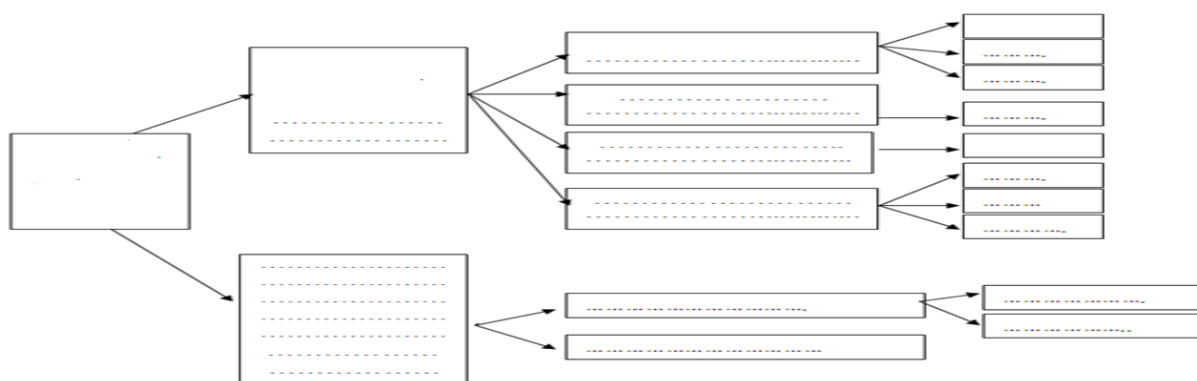
ÔN TẬP KIỂM TRA CUỐI KỲ

Chương 1 : NHÀ Ở

- 1/ Nhà ở có vai trò như thế nào đối với đời sống của con người?
- 2/ Nhà ở cấu tạo gồm mấy phần ?
- 3/ Hãy kể và mô tả những kiến trúc nhà ở đặc trưng của Việt Nam.
- 4/ Em hãy nêu một số vật liệu xây dựng nhà mà em biết ?
- 5/ Quy trình xây dựng nhà ở có mấy bước? Mỗi bước bao gồm những công việc gì?
- 6/ Vì sao chúng ta cần phải sử dụng tiết kiệm năng lượng?
- 7/ Nêu một số biện pháp có thể thực hiện để tiết kiệm năng lượng điện và năng lượng chất đốt trong gia đình.
- 8/ Ngôi nhà thông minh có đặc điểm gì? Hãy mô tả những tiện ích mà em mong muốn ngôi nhà của em có được.

Chương 2 : THỰC PHẨM

- 1/ Thực phẩm được chia làm mấy nhóm ? kể tên?
- 2/ Cho biết vai trò của mỗi nhóm thực phẩm đối với sức khỏe con người ?
- 3/ Thế nào là bữa ăn dinh dưỡng hợp lí ?
- 4/ Em hãy trình bày cách tính chi phí của một bữa ăn ?
- 5/ Em hãy nêu vai trò và ý nghĩa của việc bảo quản thực phẩm ?
- 6/ Em hãy nêu vai trò và ý nghĩa của việc chế biến thực phẩm ?
- 7/ Em nghĩ thế nào về việc có nên bỏ bữa ăn sáng không ? Tại sao ?
- 8/ Hoàn thành sơ đồ các phương pháp chế biến thực phẩm?




* DẶN DÒ :

- HS ôn lại nội dung bài học và chú ý nội dung liên theo những câu hỏi gợi ý ở trên và hướng dẫn ôn tập của Giáo viên ở trên lớp.
- Học kỹ bài ở chương 1 và 2 để chuẩn bị làm bài kiểm tra cuối kỳ 1 .

NGHỆ THUẬT 6: ÔN TẬP THI HK1

THỰC HÀNH: Vẽ họa tiết vào hình có sẵn bên dưới.

Lưu ý: không vẽ màu vào phần bên ngoài.



ÔN TẬP TIN HỌC 6

CHỦ ĐỀ A MÁY TÍNH VÀ CỘNG ĐỒNG THÔNG TIN VÀ DỮ LIỆU

Các bước hoạt động thông tin của con người

- Hoạt động thông tin con người gồm: Con người thu nhận thông tin từ thế giới bên ngoài -> xử lý thông tin -> ghi nhớ và lưu trữ thông tin -> trao đổi thông tin.

Những hạn chế của máy tính hiện nay và khả năng của máy tính trong tương lai

Máy tính cũng có hạn chế, không phải làm được tất cả mọi việc.

**Máy tính trong tương lai:*

+ Máy tính biết vẽ tranh, viết nhạc

+ Máy tính sáng tạo robot biết nói chuyện, dạy học...

Bit là gì?

- BIT đơn vị nhỏ nhất để biểu diễn và lưu trữ thông tin,

- BIT chỉ có thể nhận một trong hai trạng thái, kí hiệu "0" và "1".

Cách biểu diễn mỗi kí tự, mỗi văn bản được biểu diễn trong máy tính.

- Kí tự: tên gọi chung cho chữ cái, chữ số, dấu cách, dấu chính tả, kí hiệu khác nhau.

- Trong máy tính, mỗi kí tự được biểu diễn bằng một dãy bit tương ứng xác định, mỗi văn bản được biểu diễn bằng một dãy BIT

Số hóa dữ liệu

- Số hóa dữ liệu chuyển dữ liệu thành dãy BIT, tức là dãy các kí hiệu "0" và "1" liên tiếp, để máy tính có thể xử lý.

Dung lượng lưu trữ dữ liệu của một số thiết bị thường gặp

- Dung lượng lưu trữ: khả năng lưu trữ của các thiết bị nhớ.

- Byte: 1 dãy 8 bit liên nhau.

- Các đơn vị đo lường dữ liệu:

Viết là	Đọc là	Xấp xỉ
KB (Kilobyte)	Ki-lô-bai	Một nghìn byte
MB (Megabyte)	Mê-ga-bai	Một triệu byte
GB (Gigabyte)	Gi-ga-bai	Một tỉ byte
TB (Terabyte)	Tê-ra-bai	Một nghìn tỉ byte

CHỦ ĐỀ B. MẠNG MÁY TÍNH VÀ INTERNET

Khái niệm mạng máy tính

Mạng máy tính là một nhóm các máy tính và thiết bị được kết nối để truyền dữ liệu cho nhau.

- Mạng LAN là mạng kết nối những máy tính trong một phạm vi nhỏ từ vài chục đến hàng trăm máy tính và thiết bị như: tòa nhà, cơ quan, trường học, nhà riêng...

Lợi ích của mạng máy tính

- Mạng máy tính giúp người dùng chia sẻ tài nguyên bao gồm thông tin và các thiết bị với nhau. Cụ thể:

- + Dùng chung dữ liệu
- + Dùng chung các thiết bị phần cứng
- + Dùng chung các phần mềm
- + Trao đổi thông tin

Ba thành phần của mạng máy tính

- Các máy tính và thiết bị có khả năng gửi và nhận thông tin qua mạng.
- Các thiết bị mạng có chức năng kết nối các máy tính với nhau.
- Những phần mềm giúp giao tiếp và truyền thông tin qua mạng.

Mạng có dây

- Mạng có dây là loại mạng sử dụng dây cáp để truyền dữ liệu.
- Switch là thiết bị để kết nối cơ bản.

Mạng không dây

- Mạng không dây là loại mạng máy tính sử dụng sóng điện từ để truyền thông tin.
- Thiết bị cơ bản của mạng không dây là Access Point.

CHỦ ĐỀ C. TỔ CHỨC LƯU TRỮ, TÌM KIẾM VÀ TRAO ĐỔI THÔNG TIN

Khám phá website

- Website là tập hợp các trang web (web pages) có liên quan đến nhau và được gán cùng một địa chỉ.
- Mỗi Website có một địa chỉ website riêng.

Siêu văn bản và siêu liên kết

- Siêu liên kết là đường dẫn đến vị trí của đoạn văn bản/ trang web cần truy cập đến (trở chuột vào xuất hiện hình bàn tay), giúp ta di chuyển các phần trên một trang hoặc giữa các trang.

- Siêu văn bản là đoạn văn bản hoặc hình ảnh chứa siêu liên kết, nó thực chất cũng là một trang web.

World wide web

- Hệ thống các website có liên kết với nhau trên Internet được gọi là World Wide Web (gọi tắt là web, viết tắt WWW).

- WWW tạo thuận lợi cho việc tìm kiếm và thu thập thông tin, chia sẻ suy nghĩ và khám phá của mình với mọi người.

Trình duyệt web

- Trình duyệt web là một phần mềm ứng dụng để truy cập và xem nội dung của website.
- Một số trình duyệt web thông dụng hiện nay: Google Chrome, Mozilla Firefox, Cốc Cốc và Safari.
- Để truy cập vào một trang web, chia cần mở trình duyệt web và gõ địa chỉ của trang web đó vào ô địa chỉ trong cửa sổ của trình duyệt.